

01 【データサイエンス学部】

英語問題

2023(令和5)年度

【注意事項】

1. この問題冊子は「英語」である。
2. 試験時間は90分である。
3. 試験開始の合図まで、この問題冊子を開いてはいけない。ただし、表紙はあらかじめよく読んでおくこと。
4. 試験開始後すぐに、以下の5および6に記載されていることを確認すること。
5. この問題冊子の印刷は1ページから7ページまでである。
6. 解答用紙は問題冊子中央に2枚はさみこんである。
7. 問題冊子に落丁、乱丁、印刷不鮮明な箇所等があった場合および解答用紙が不足している場合は、手をあげて監督者に申し出ること。
8. 試験開始後、2枚ある解答用紙の所定の欄に、受験番号と氏名を記入すること（1枚につき受験番号は2箇所、氏名は1箇所）。
9. 解答は必ず解答用紙の指定された箇所に記入すること。解答用紙の裏面に記入してはいけない。
10. 問題番号に対応した解答用紙に解答していない場合は、採点されない場合もあるので注意すること。
11. 問題冊子の中の白紙部分は下書き等に使用してよい。
12. 解答用紙を切り離したり、持ち帰ってはいけない。
13. 試験終了時刻まで退室を認めない。試験中の気分不快やトイレ等、やむを得ない場合には、手をあげて監督者を呼び、指示に従うこと。
14. 試験終了後は問題冊子を持ち帰ること。

〔 I 〕 次の文章を読んで、下の問いに解答欄の範囲内で答えなさい。

著作権の関係により、問題文を掲載することはできません。

こちらの問題は、横浜市立大学アドミSSIONズセンターにおいて
閲覧できます。

また、【2023（令和5）年度 一般選抜第2次試験 入試問題・解説集】に
おいては掲載しています。

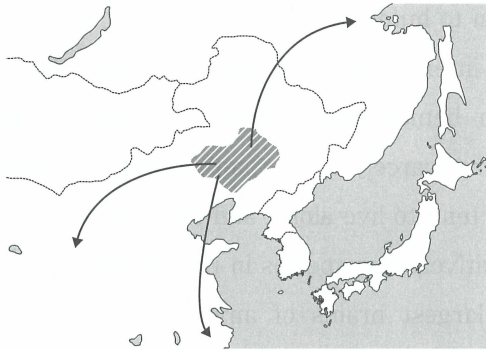
（出典 Will Dunham, “Japanese-Korean-Turkish language group traced to farmers
in ancient China” (Reuters, November 11, 2021) 一部改変)

※参考までに設問を掲載いたします。

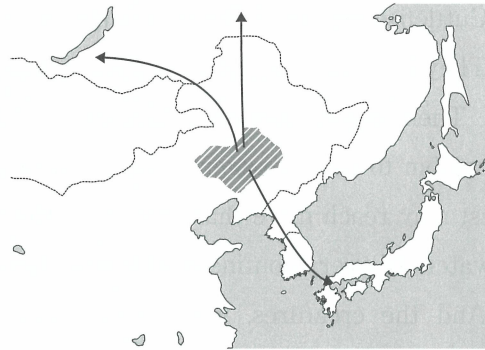
(1) 下線部 (ア) について、どのような言語学的証拠が、本文で示された研究結果を導いたのか。その研究手法に言及しながら、本文に即して日本語で簡潔に説明しなさい。

(2) 下線部 (イ) の語族は、どの地域にどのように広まったのか。以下の地図よりもっとも近いものを選び、記号で答えなさい。

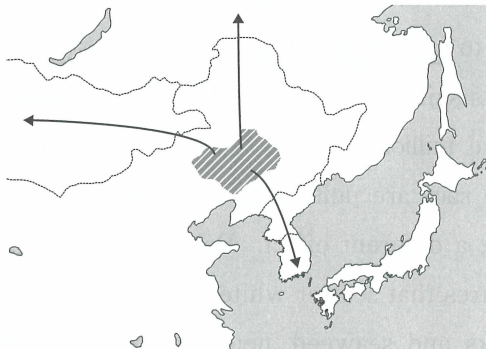
(a)



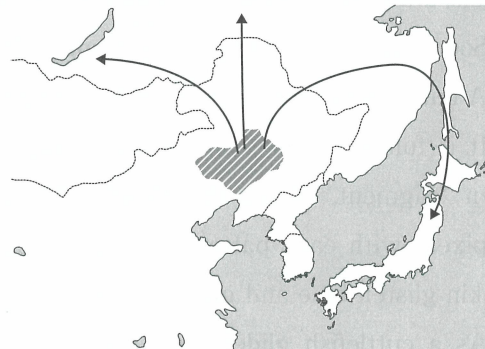
(b)



(c)



(d)



(3) 下線部 (ウ) を和訳しなさい。

(4) 下線部 (エ) の具体的な内容を、本文に即して日本語で簡潔に説明しなさい。

(5) トランスユーラシア語族とシナ・チベット語族について、下線部 (オ) が示す内容を、本文に即して日本語で簡潔に説明しなさい。

〔Ⅱ〕 次の文章を読んで、下の問いに解答欄の範囲内で答えなさい。

著作権の関係により、問題文を掲載することはできません。

こちらの問題は、横浜市立大学アドミSSIONズセンターにおいて
閲覧できます。

また、【2023（令和5）年度 一般選抜第2次試験 入試問題・解説集】に
おいては掲載しています。

（出典 Veronique Greenwood, “Did a Cuttlefish Write This?”
（The New York Times, July 9, 2021） 一部改変）

※参考までに設問を掲載いたします。

- (1) 下線部 (ア) を具体的に述べた1文を, 本文中から英語で抜き出さない。
- (2) 下線部 (イ) を可能とする, コウイカの体内のしくみを, 本文に即して日本語で説明しなさい。
- (3) 下線部 (ウ) は何を指すか。本文に即して日本語で簡潔に説明しなさい。
- (4) 下線部 (エ) を英訳しなさい。
- (5) 下線部 (オ) について, その理由を, タコとコウイカの体の構造上の違いに言及し, 本文に即して日本語で簡潔に説明しなさい。
- (6) 下線部 (カ) を和訳しなさい。